

Пригласительный этап ВсОШ в городе Москве, история, 6–7 класс, 2023

13 апр 2023 г., 09:55 — 14 апр 2023 г., 21:15

№ 1

1 балл

Прочитайте отрывок из труда римского историка Плиния Старшего. Определите, о каком городе идет речь в тексте.

«Цари, как бы состязаясь, делали из сиенита столпы, называя их обелисками. Первым из всех это ввел Месфрес, который царствовал в Городе Солнца, получив такое повеление во сне».

Мемфис

Фаюм

Александрия

Гелиополь

№ 2

1 балл

Как называется документ, отрывок из которого представлен ниже?

«... да будет властью настоящего парламента установлено, что король, наш верховный государь, его наследники и преемники, короли этого королевства, должен быть принимаем, признаваем, почитаем единственным на свете верховным главой церкви Англии».

Золотая булла 1356 г.

Акт о супрематии 1534 г.

Нантский эдикт 1598 г.

«Хабеас корпус акт» 1679 г.

№ 3

1 балл

В каком году был принят документ, отрывок из которого представлен ниже?

«Будет кто каким умышленьем учнет мыслить на государское здоровье злое дело, и про то его злое умышление кто известит, и по тому извету про то его злое умышление сыщется допряма, что он на царское величество злое дело мыслил и делать хотел, и такова по сыску казнить смертию».

1497 г.

1550 г.

1649 г.

1714 г.

№ 4

3 балла

Какие из городов существовали в эпоху Древнерусского государства?

Архангельск

Псков

Чернигов

Тобольск

Нижний Новгород

Ладога

№ 5

3 балла

Какие из сражений произошли в ходе русско-турецких войн?

сражение у деревни Лесной

взятие крепости Измаил

битва под Клушино

битва при Ларге

сражение при Рымнике

сражение у Гросс-Егерсдорфа

№ 6

6 баллов

Расположите события в хронологической последовательности.

1

женитьба Ивана III на Софье Палеолог

2

провозглашение Карла Великого императором

3

первая религиозная реформа князя Владимира

4

начало войны Алой и Белой розы в Англии

5

первое упоминание о Москве в летописи

6

открытие Васко да Гамой морского пути в Индию

№ 7

6 баллов

Перед вами перечень событий, произошедших в трёх городах. Установите соответствие между названиями этих городов и соответствующими событиями.

Москва

принятие Соборного уложения

гибель Павла I

Санкт-Петербург

начало работы Уложенной комиссии при
Екатерине II

окончательное поражение войск И.
Болотникова

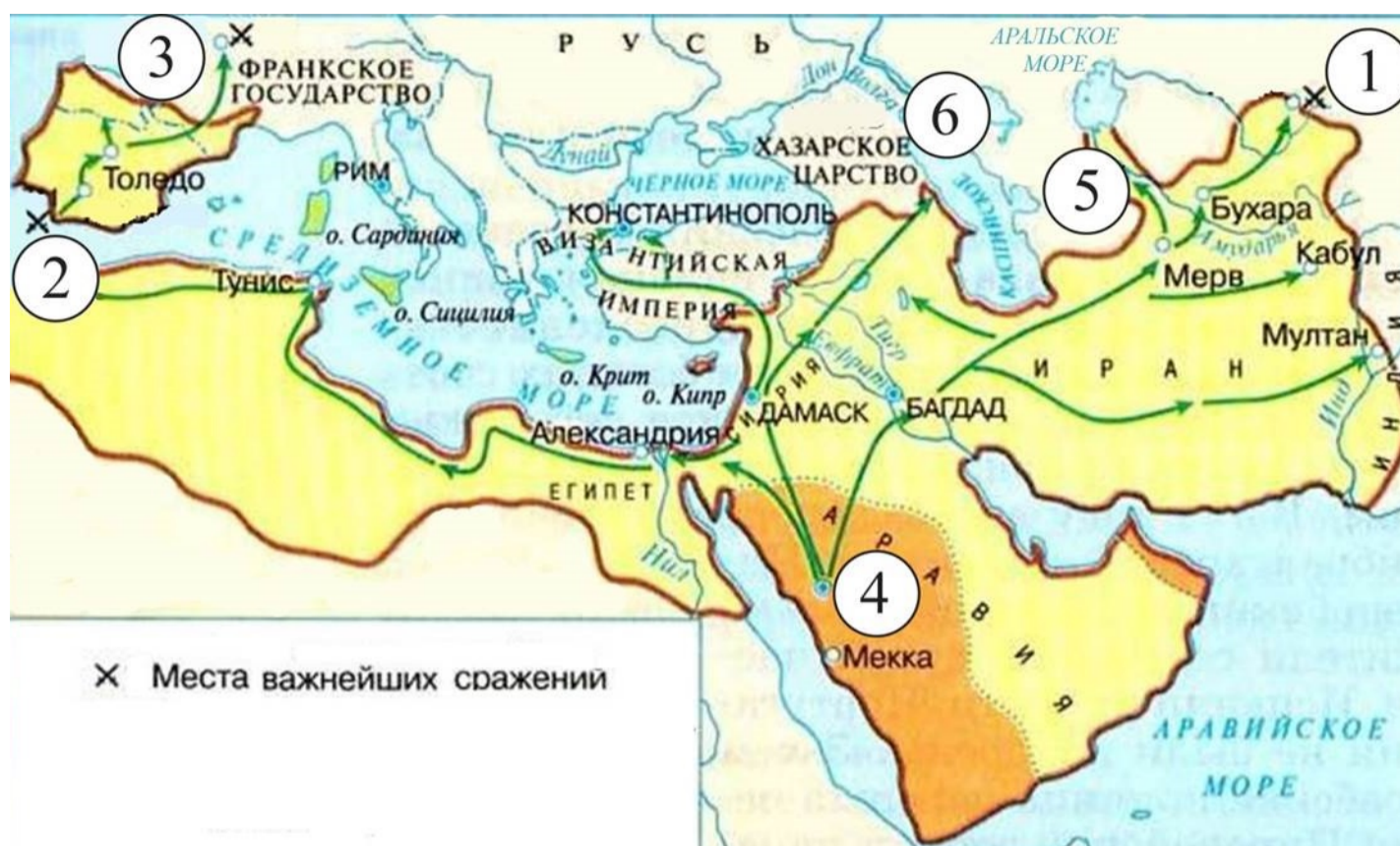
Тула

строительство Адмиралтейства

основание А. Виниусом
металлургических мануфактур

8 баллов

Внимательно рассмотрите карту и выполните задания.



1) Как называется государство, границы которого обозначены на представленной схеме жирной коричневой линией?

Новоассирийское царство

Арабский Халифат

Понтийское царство

Вавилонское царство

2) Укажите век, когда появилось государство, границы которого обозначены на схеме жирной коричневой линией.

III

IV

VII

IX

3) Укажите имя известного исторического деятеля, чьи последователи создали государство, границы которого обозначены на схеме жирной коричневой линией.

Мухаммед

Авиценна

Сулейман

Моисей

4) Укажите цифру, которой обозначено место битвы, положившей конец расширению территорий государства, обозначенного на схеме жирной коричневой линией, в Западной Европе.

1

2

3

4

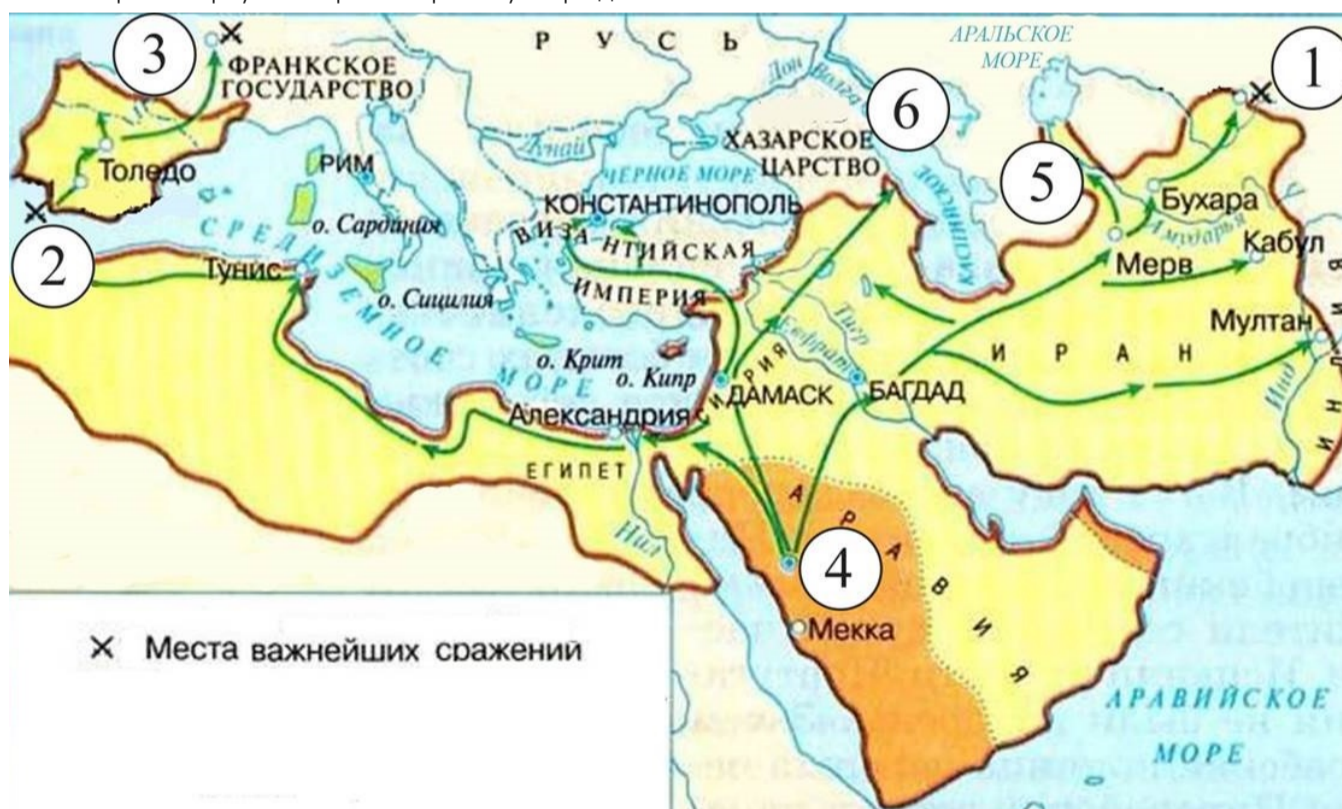
5

6

5. Напишите год, когда произошла битва, упомянутая выше.

Число

6. Рассмотрите карту. Выберите верные утверждения.



Цифрой 4 на схеме обозначен город, получивший в процессе образования этого государства название «город пророка».


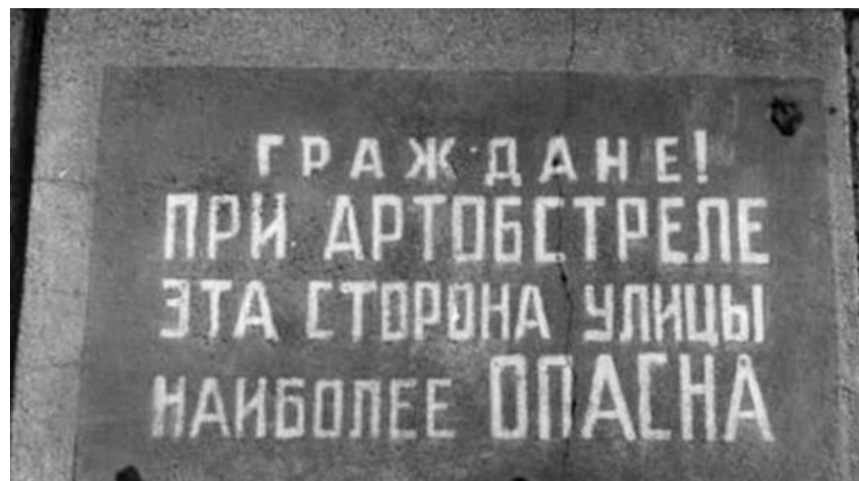
Цифрой 6 на схеме обозначен город, являвшийся столицей Древнерусского государства.

- На схеме обозначено государство, в котором правил Карл Великий.
- Цифрой 5 на схеме обозначена столица Восточной Римской империи.
- Образование государства, границы которого обозначены на представленной схеме жирной линией, стало причиной гибели Западной Римской империи
- На схеме обозначен город, который являлся частью торгового пути «из варяг в греки».

№ 9

10 баллов

Перед вами изображения, связанные с памятью о Великой Отечественной войне. Соотнесите буквенное обозначение названия города с порядковым номером связанного с ним изображения.







Брестская крепость



Ленинград



Минск



Москва

Мурманск



Новороссийск

Севастополь



Смоленск

Сталинград

Нет изображения

Тула